


ACTIVIDADES DE 1° C – sexta semana

MARTES 21 DE ABRIL

CIENCIAS SOCIALES: LA FAMILIA.

- 1) Dialogar:
 - ¿Qué significa tener **parientes**?
 - ¿Qué diferencia existe entre los **parientes cercanos** (padres, hermanos) y los **colaterales** o secundarios podríamos llamarlos (abuelos, tíos, primos, sobrinos)?
- 2) Formar palabras con el equipo de letras:
 - MAMÁ, PAPÁ, TÍO, TÍA, NIETO.
 - Algunos nombres de familiares.
- 3) ¿Quiénes serán? Observar los dibujos y unir con flechas de distintos colores cada persona con la palabra que corresponda.



ABUELA	NIETO	ABUELO
--------	-------	--------



MAMÁ	HIJA	PAPÁ
------	------	------






LENGUA: PALABRAS CORTAS Y LARGAS

- 1) Pintar con rojo las palabras cortas y con verde las palabras largas (podemos contar cuántas letras tiene cada una):

SOL	MURCIÉLAGO	PAN
ELEFANTE	FLOR	DINOSAURIO

- 2) ¿DÓNDE DICE?
 - Decir el nombre de cada dibujo en “cámara lenta” (muy despacio) para escuchar todos los sonidos.
 - Escribir cada una de las palabras anteriores en el cuadro siguiente al lado del dibujo que corresponda.


- Pensar, por ejemplo: ¿Dónde dice **SOL**? ¿Qué sonidos escucho? ¿Con qué letra empieza? ¿Con cuál termina?



MIÉRCOLES 22 DE ABRIL

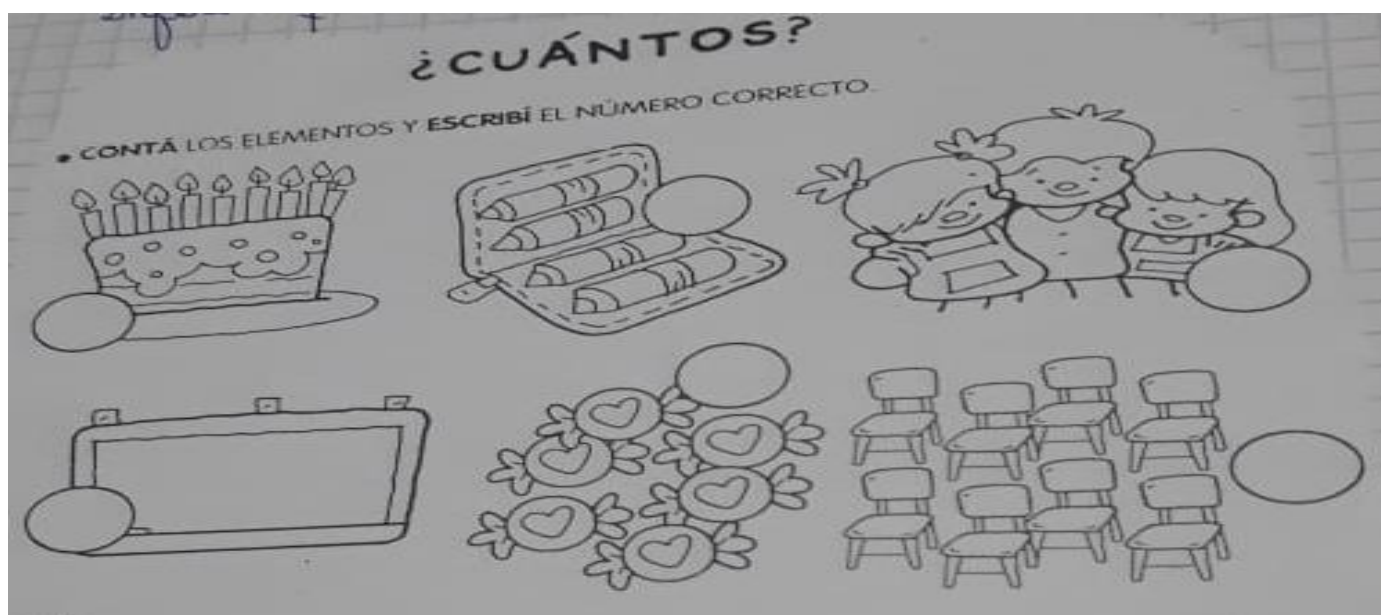
LENGUA: LA LETRA "S"

- 1) Jugamos a decir **PALABRAS QUE EMPIECEN CON S** exagerando el sonido de la letra.
- 2) Nombrar los dibujos y pintar sólo los que empiecen con **S**.



- 3) Digo en "cámara lenta" cada palabra, escucho los sonidos de las vocales y las remarco con color.

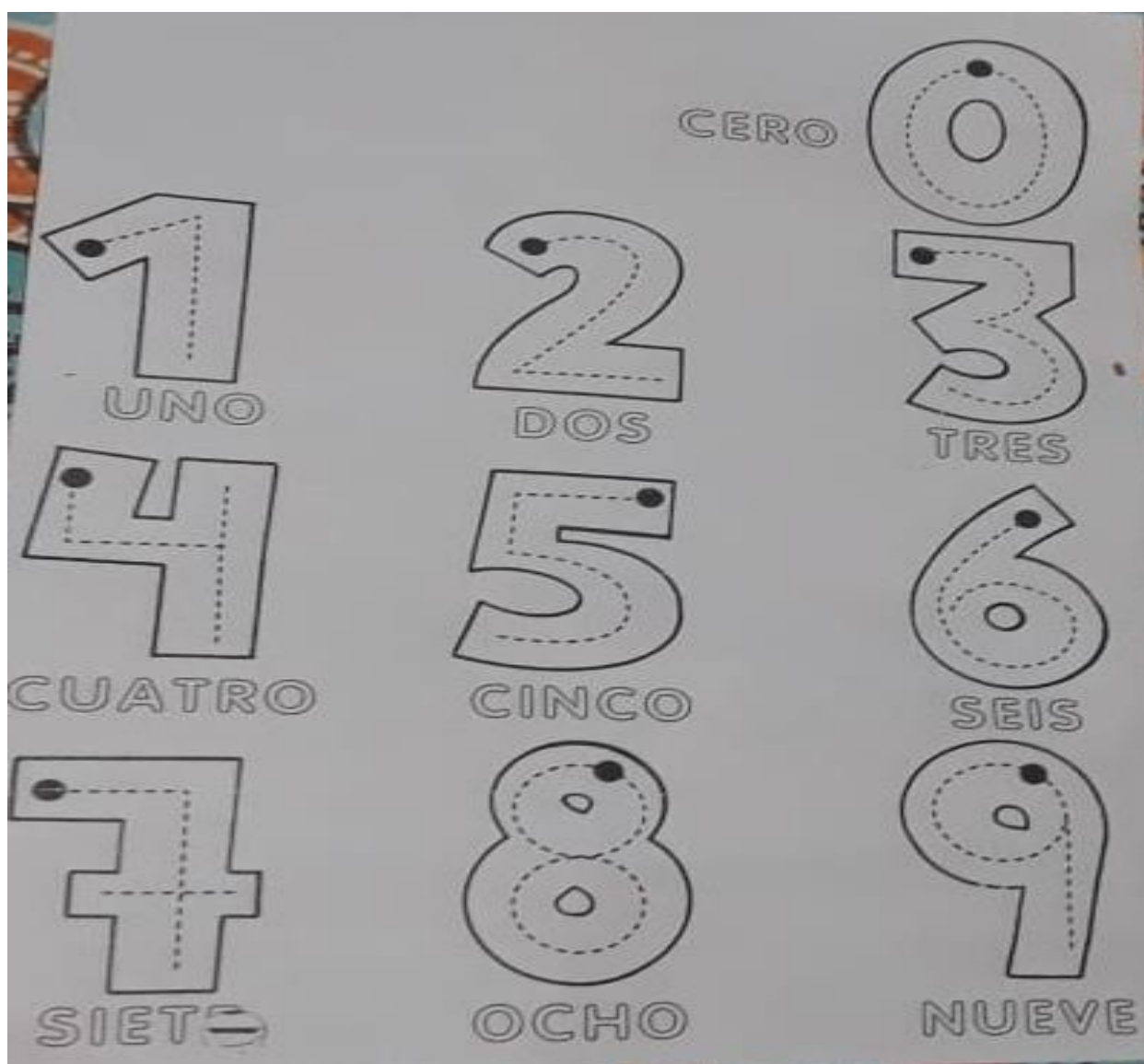
MATEMÁTICA: NUMERACIÓN



UNÍ CON FLECHAS DE DISTINTOS COLORES:




REPASÁ LOS NÚMEROS POR LA LÍNEA PUNTEADA



EJERCITAMOS EL TRAZADO DE CADA NÚMERO:

0 : 0 – 0 -

1 :



CABEZA**CUELLO****TRONCO****MANO****BRAZO****PIERNA****PIE****MATEMÁTICA: SUMAS**

Completar las páginas 116 y 117 del libro. No realizar el último ejercicio de la pág. 117.

DADOS Y SUMAS

1. ESCRIBÍ EL PUNTAJE QUE FALTA EN CADA DADO.

SAQUE 4.

2

SAQUE 6.

3

2. ESCRIBÍ LOS PUNTAJES.

4 + 4 =

5 + 5 =

6 + 6 =

SUMAS QUE YA SÉ

1. EN PAREJAS, COMPLETEN ESTOS CÁLCULOS.

1 + 1 =

2 + 2 =

3 + 3 =

4 + 4 =

5 + 5 =

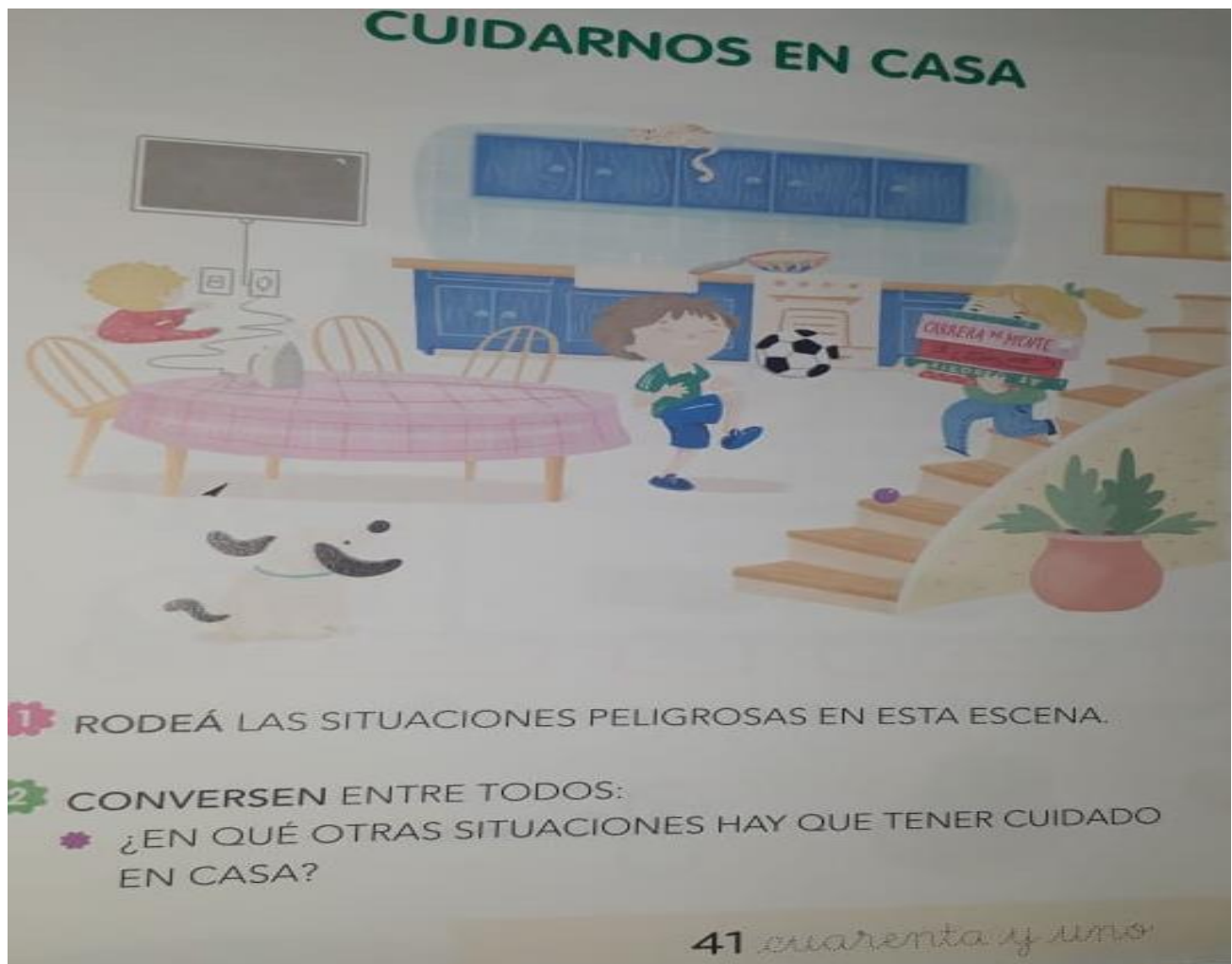
6 + 6 =

2. ESCRIBÍ OTRAS SUMAS QUE SEPAS DE MEMORIA.

VIERNES 24 DE ABRIL

CIENCIAS SOCIALES: EL ENTORNO INMEDIATO. VALORACIÓN Y CUIDADO DE UNO MISMO.

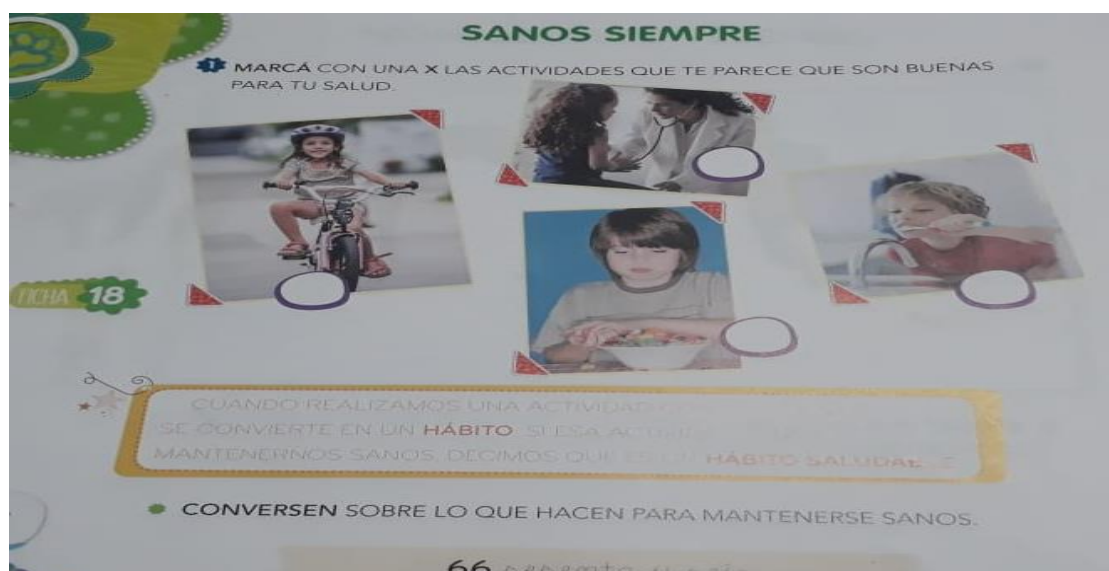
Trabajamos con la pág. 41 del libro.



Sacar una **foto** de una situación peligrosa en casa y compartirla con sus compañeros en el grupo de whatsapp.

CIENCIAS NATURALES: HÁBITOS SALUDABLES.

Trabajamos con la pág. 66 del libro.



LUNES 27 DE ABRIL

FORMACIÓN ÉTICA Y CIUDADANA: EL CUIDADO DEL CUERPO Y LA SALUD

- 1) Observar los dibujos y dialogar: ¿Cómo cuidamos nuestra salud?
- 2) Dibujá otras formas de cuidarla.



- 3) En familia: pensar y preparar un cartel con un mensaje breve para todo el personal de la salud que está trabajando en este tiempo de pandemia en nuestro país y en el mundo. Sacar una foto para compartir en el grupo de whatsapp del grado.

